


Міністерство освіти та науки України
Управління освіти Маріупольської міськради
Міський науково-методичний центр



Збірник
завдань з географії
(для учнів 10 класу)

Маріуполь 2011

Упорядник Комісарова І. М. – вчитель географії, спеціаліст вищої кваліфікаційної категорії, вчитель - методист ЗОШ № 57
Рецензент Добровольська С.В. – методист з географії МНМЦ, вчитель-методист, вчитель географії вищої категорії СШ №5
Автори: Комісарова І.М.-ЗОШ №57, Кочин Н.О. ЗОШ № 67, Литвинова І.В. гімназія № 2, Покідіна А., Онофрійчук О.В. УВК «гімназія-школа № 27»

Збірник завдань з географії для 10 класу за структурою тем відповідає програмі Міністерства освіти та науки України. Розроблені завдання для оцінювання навчальних досягнень з географії орієнтовані на урахування індивідуальних особливостей учнів, передбачають диференційований підхід щодо його організації та державних вимог до рівня загальноосвітньої підготовки учнів.

Збірник рекомендується для вчителів географії та учнів.

Вступ

Одним із головних завдань, що постало перед авторами посібника, - допомогти учням ґрунтовно підготуватись до державної підсумкової атестації та зовнішнього незалежного оцінювання, а вчителям – на належному рівні організувати проведення поточного оцінювання, підсумкових тематичних контрольних робіт та отримати достатньо об'єктивну інформацію про рівень загальноосвітньої підготовки учнів з географії.

Одним із видів контролю засвоєння матеріалу є тест – сучасна, міжнародно визнана форма контролю знань. Саме тому запропоновані в збірнику завдання представлені здебільшого в тестовому форматі.

Тест складається із системи завдань визначеного змісту, зростаючої складності, різної форми, що дозволяє якісно та ефективно визначити рівень підготовленості учнів з географії та визначити прогалини в знаннях.

Відповідно до типів завдань та їх складності в тематичних завданнях виділено три частини (блоки).

Блок А складається із тестових завдань першого рівня складності. Вони представлені завданнями «закритого» типу, коли із чотирьох варіантів запропонованих відповідей абсолютно правильною є тільки одна.

Блок В складається із тестових завдань другого рівня складності на встановлення відповідності, послідовності між географічними явищами та об'єктами. Завдання даного блоку дають можливість перевірити вміння порівнювати географічні об'єкти та визначати їх розміщення на картосхемі, пояснювати географічні поняття, визначати географічні об'єкти, процеси та явища за поданим описом.

Блок С складається із завдань на встановлення причинно-наслідкових зв'язків, порівняння географічних процесів, явищ та об'єктів, встановлення рис відмінності та подібності. Завдання цього блоку надають можливість перевірити вміння учнів висловлювати власні думки, наводити аргументи, складати географічні характеристики, робити висновки, працювати з картографічними і статистичними матеріалами, застосовувати знання і вміння у новій ситуації; пояснювати розвиток і просторове поширення географічних процесів і явищ на основі виділення їх істотних ознак; уміння застосовувати наявні знання і уміння для вирішення поставленого завдання.

Зміст тематичних завдань охоплює розділи та теми всього курсу географії 8 класу.

Перед початком роботи над завданнями учням необхідно повторити матеріал з теми. Практично на всі завдання можна знайти відповіді у шкільних підручниках, посібниках та географічних атласах.

Залежно від типу і рівня складності завдання контрольної роботи мають різну вагу.

Виконання кожного завдання **блоку А** оцінюється по 0,5 балів.

Завдання **блоку В** оцінюється по 1 балу.

Завдання **блоку С** (1-6 зав.) оцінюється по 1,5 балів, а решту по 3 бали. Можна взяти 2 завдання із даного блоку, виконання яких оцінюється по 3 бали.

Усього за контрольну (тематичну) роботу учень може набрати 12 балів.

Рекомендований конструктор завдань:

Блок	Кількість завдань	Кількість балів за одне завдання	Усього балів
А	6	0,5	3
В	3	1	3
С	2	1,5	3
	1	3	3

Усього 12

Розділ I. ЗАГАЛЬНА ЕКОНОМІКО – ГЕОГРАФІЧНА ХАРАКТЕРИСТИКА СВІТУ

Вступ

Тема 1. Політична карта світу

Тема 2. Населення світу

Б Л О К А

Завдання 1-12 мають чотири варіанти відповідей. У кожному завданні виберіть **ОДНУ ПРАВИЛЬНУ** відповідь.

1. Завдання з вибором однієї правильної відповіді.

Виберіть правильну відповідь.

1. Виберіть кількість суверенних держав в світі:

- А) близько 100
- Б) близько 150
- В) близько 200
- Г) близько 250

А	
Б	
В	
Г	

2. Позначте державу, яка не входить до «Великої сімки»:

- А) Росія
- Б) США
- В) Японія
- Г) Італія

А	
Б	
В	
Г	

3. Позначте країну з перехідною економікою:

- А) Куба
- Б) Молдова
- В) Канада
- Г) Лівія

А	
Б	
В	
Г	

4. Позначте країну, яка є абсолютною монархією:

- А) Оман
- Б) Іспанія
- В) Швеція
- Г) Франція

А	
Б	
В	
Г	

5. Позначте державу, яка є федеративною:

- А) Польща
- Б) Єгипет
- В) Монголія
- Г) Німеччина

А	
Б	
В	
Г	

6. Позначте спеціальну міжнародну організацію:

- А) Організація Об'єднаних Націй (ООН)
- Б) Співдружність Незалежних Держав (СНД)
- В) Організація Північноатлантичного договору (НАТО)
- Г) Рада Європи (РЄ)

А	
Б	
В	
Г	

7. Зараз у світі проживає близько:

- А) 5 млрд. чоловік
- Б) 6 млрд. чоловік
- В) 7 млрд. чоловік
- Г) 8 млрд. чоловік

А	
Б	
В	
Г	

8. Позначте країну, якій притаманний перший тип відтворення населення:

9.

- А) Японія
- Б) Ліберія
- В) Індія
- Г) Панама

А	
Б	
В	
Г	

10. Позначте країну, яка є однонаціональною:

- А) Україна
- Б) Велика Британія
- В) США
- Г) Японія

А	
Б	
В	
Г	

11. Виберіть релігію, яка є світовою:

- А) Буддизм
- Б) Синтоїзм
- В) Конфуціанство
- Г) Іудаїзм

А	
Б	
В	
Г	

11. Середня густина населення в світі становить:

- А) 30 чол/км²
- Б) 35 чол/км²
- В) 40 чол/км²
- Г) 48 чол/км²

А	
Б	
В	
Г	

12. Найбільше місто світу:

- А) Москва
- Б) Париж
- В) Шанхай
- Г) Лондон

А	
Б	
В	
Г	

БЛОК В

13. Установіть відповідність.

- А Держави 1. Країни, що перебувають під владою іноземних держав-монополій.
- Б Колонії 2. Суверенні політичні утворення, що здійснюють владу на певній території та забезпечують в її межах господарську діяльність.
- В Території 3. Території з визначеними кордонами і населенням, що в політико-географічному відношенні можуть бути незалежними або залежними.
- Г Країни 4. Частина поверхні суходолу з природними і створеними людською діяльністю ресурсами, що має певні просторові межі та географічне положення.
- 5. Незалежність держави, її право самостійно вирішувати свої внутрішні та зовнішні справи без втручання зовнішніх сил.

	1	2	3	4	5
А					
Б					
В					
Г					

14. Установіть відповідність.

- А Бразилія 1. Абсолютна монархія
- Б Норвегія 2. Президентська республіка
- В Ямайка 3. Держава у складі Британської співдружності
- Г Австрія 4. Парламентська республіка
- 5. Конституційна монархія

	1	2	3	4	5
А					
Б					
В					
Г					

15. Установіть відповідність.

- А Канада
- Б Республіка Корея
- В Саудівська Аравія

Г Португалія

- 1. Нова індустріальна країна
- 2. Країна «Великої сімки»
- 3. Країна середнього рівня економічного розвитку
- 4. Переселенська країна
- 5. Нафтодобувна країна з високими доходами

	1	2	3	4	5
А					
Б					
В					
Г					

16. Установіть відповідність.

А Демографія

Б Демографічний вибух

В Демографічна криза

Г Природний рух населення

- 1. Зміна кількості населення в результаті біологічних процесів народжуваності та смертності.
- 2. Значне уповільнення темпів приросту населення
- 3. Наука, що вивчає народонаселення
- 4. Різниця кількості народжених і кількості померлих за певний період
- 5. Стрімке зростання кількості населення

	1	2	3	4	5
А					
Б					
В					
Г					

17. Установіть відповідність.

А Механічний рух населення

Б Еміграція

В Імміграція

Г Сальдо міграцій

- 1. Різниця між кількістю емігрантів та іммігрантів
- 2. Виїзд за межі країни
- 3. Переміщення людей
- 4. В'їзд громадян до країни
- 5. Різниця кількості народжених і кількості померлих за певний період

	1	2	3	4	5
А					
Б					
В					
Г					

18. Установіть відповідність.

А Народ

Б Етнос

В Нація

Г Національність

1. Приналежність людини до певної нації або народності.
2. Населення певної країни.
3. Група людей, що історично склалася на певній території і має свої мову, культуру, особливості менталітету.
4. Етнос, для якого притаманні спільні ознаки: єдність території, мови, культури, господарської діяльності..
5. Форма етносу, при якій кровна спорідненість замінялася територіальною спільністю проживання.

	1	2	3	4	5
А					
Б					
В					
Г					

19. Установіть відповідність.

А Даосизм

Б Синтоїзм

В Іудаїзм

Г Індуїзм

1. Японія

2. Італія

3. Китай

4. Ізраїль

5. Індія

	1	2	3	4	5
А					
Б					
В					
Г					

20. Установіть відповідність.

А Промислове місто

Б Політико-адміністративне місто

В Курортне місто

Г Релігійне місто

1. Мекка

2. Ніцца

3. Детройт

4. Тарту

5. Канберра

	1	2	3	4	5
А					
Б					
В					
Г					

21. Установіть відповідність.

- А Урбанізація
- Б Агломерація
- В Мегаполіс
- Г Рурбанізація

1. Процес поширення міського способу життя на селі.
2. Група агломерацій, яка є найбільшою формою розселення.
3. Процес швидкого зростання міського населення, поширення міського способу життя та зростання ролі міст.
4. Форма розселення, яка формується навколо великого міста або кількох близько розташованих міст.
5. Зростання частки міського населення, проте міський спосіб життя не поширюється.

	1	2	3	4	5
А					
Б					
В					
Г					

22. Розташуйте в хронологічній послідовності зміни на політичній карті світу:

- А Розпад Радянського Союзу
- Б Об'єднання Німеччини
- В Розпад Австро-Угорської імперії
- Г Здобуття Чорногорією незалежності

	1	2	3	4
А				
Б				
В				
Г				

23. Розташуйте частку населення регіонів світу, починаючи з найбільшої:

- А Австралія
- Б Європа
- В Африка
- Г Азія

	1	2	3	4
А				
Б				
В				
Г				

24. Розташуйте народи світу за кількістю, починаючи з найбільшої.

- А Японці
- Б Китайці
- В Росіяни
- Г Хіндустанці

	1	2	3	4
А				
Б				
В				
Г				

БЛОК С

25. Поясніть, яку роль відіграє ООН у світі.
26. Поясніть особливості демографічного вибуху в ХХ столітті.
27. Поясніть особливості процесу урбанізації в країнах, що розвиваються.
28. Охарактеризуйте особливості розміщення населення Північної Америки.
29. Які проблеми виникають у країнах, для яких характерний другий тип відтворення населення?
30. Які, на вашу думку, позитивні та негативні наслідки має створення Європейського Союзу.
31. Обґрунтуйте необхідність і можливість використання різних класифікацій країн світу.
32. Доведіть, що Ватикан є державою.
33. Охарактеризуйте основні напрямки міграційних процесів.
34. Яку роль в сучасному світі відіграє релігія?
35. Охарактеризуйте зв'язок між часткою населення, зайнятого в основних галузях господарства та рівнем економічного розвитку країни.
36. Які головні риси всесвітнього процесу урбанізації?

Розділ II. ЗАГАЛЬНА ЕКОНОМІКА – ГЕОГРАФІЧНА ХАРАКТЕРИСТИКА СВІТУ

Тема 3. Взаємодія суспільства і природи. Світові природні ресурси

Тема 4. Світове господарство

Тема 5. Глобальні проблеми людства

БЛОК А

Завдання 1-12 мають чотири варіанти відповідей. У кожному завданні виберіть **ОДНУ ПРАВИЛЬНУ** відповідь.

1. Екологічна проблема виникла у результаті взаємодії:

- а) природи і суспільства
- б) природних компонентів
- в) місцевого і сільського населення
- г) ростом населення Землі.

А	
Б	
В	
Г	

2. Найбільше виробництво електроенергії на душу населення у світі у:

- а) Китаї
- б) Росії
- в) Норвегії
- г) США

А	
Б	
В	
Г	

3. Найбільш важливою галуззю економіки є:

- а) промисловість
- б) транспорт
- в) сільське господарство
- г) соціальний комплекс

А	
Б	
В	
Г	

4. Система взаємозалежних національних господарств утворює:

- а) територіальну структуру економіки країни
- б) світове господарство
- в) господарство країни
- г) світову економічну інтеграцію

А	
Б	
В	
Г	

5. Світова енергетична проблема викликана:

- а) економічним ростом
- б) ростом енергоспоживання
- в) низькою якістю паливних ресурсів
- г) використання нетрадиційних джерел енергії

А	
Б	
В	
Г	

6. Ведучими галузями сільського господарства є:

- а) бджільництво
- б) тваринництво
- в) аквакультура

А	
Б	
В	
Г	

- г) шелководство
7. Головною глобальною проблемою є:
- а) енергетична
 - б) демографічна
 - в) проблеми війни та миру
 - г) подолання відсталості країн що розвиваються.
- | | |
|---|--|
| А | |
| Б | |
| В | |
| Г | |
8. Світове господарство охоплює:
- а) постіндустріальні країни
 - б) усі країни
 - в) країни що розвиваються
 - г) країни перехідної економіки
- | | |
|---|--|
| А | |
| Б | |
| В | |
| Г | |
9. Для хімічної промисловості характерно:
- а) водоємність
 - б) енергоємність
 - в) висока вартість обладнання
 - г) залучення новітніх наукових розробок
- | | |
|---|--|
| А | |
| Б | |
| В | |
| Г | |
- 10.2/3 електроенергії виробляється на :
- а) АЕС
 - б) ТЕС
 - в) ГЕС
 - г) сонячні електростанції
- | | |
|---|--|
| А | |
| Б | |
| В | |
| Г | |
11. Новітні галузі це:
- а) робототехніка
 - б) харчова промисловість
 - в) вугільна промисловість
 - г) чорна металургія
- | | |
|---|--|
| А | |
| Б | |
| В | |
| Г | |
12. Найзначнішими в світі виробником і експортером авіаційно-космічної продукції є:
- а) Японія
 - б) США
 - в) Україна
 - г) Франція
- | | |
|---|--|
| А | |
| Б | |
| В | |
| Г | |

БЛОК В

13. Доповніть речення: **Складові частини НТР – це:**

- а) –
- б) –
- в) –
- г) –

14. Доповніть речення:

Етапами розвитку паливно-енергетичного комплексу світу є:

- а) –
- б) –
- в) –

15. Доповніть речення:

Головними ареалами машинобудування світу є:

- а) –
- б) –
- в) –

16. Встановіть відповідність:

Галузі машинобудування:

- А) Автомобілебудування
- Б) Авіакосмічна промисловість

Країни - найбільші виробники

- 1) Молдова
- 2) США
- 3) Росія
- 4) Японія
- 5) Франція

	1	2	3	4	5
А					
Б					

17. Розмістіть країни в порядку збільшення їхньої частки у світовому виробництві автомобілів:

- А) Германія
- Б) США
- В) Росія
- Г) Японія

1	2	3	4

18. Розмістіть країни в порядку збільшення їхньої частки у світовому добутку вугілля:

- А) Китай
- Б) Індія, Росія
- В) США
- Г) Німеччина

1	2	3	4

19. Розмістіть країни в порядку збільшення їхньої частки у світовому добутку газу:

- А) Велика Британія
- Б) Росія
- В) США
- Г) Канада

1	2	3	4

20. Розмістіть країни в порядку зменшення потужності морського флоту

- А) Японія
- Б) Ліберія
- В) Панама
- Г) Норвегія

1	2	3	4

21. Встановити співвідношення.

У колонці «відповіді» навпроти назви «тварини» поставити умовні позначення країни:

Країни-лідери у світовому поголів'ю	Тварини	Відповіді
США	Велико-рогата худоба	
Австралія		
Китай	Свинарство	
Індія	Вівчарство	

22. Встановіть відповідність (провести стрілки):

Країни

- 1. Японія
- 2. Польща
- 3. Ангола

Структура господарства

- А. Аграрна
- Б. Постіндустріальна
- В. Індустріальна

23. Виберіть із перерахованих три країни з найвищим рівнем розвитку транспорту:

1	2	3	4	5	6

- 1) Індія
- 2) Японія
- 3) Бразилія
- 4) США
- 5) Росія
- 6) Германія

24. Які з перерахованих галузей визначають науково-технічний прогрес:

1	2	3	4	5	6	7	8	9

- 1) металургія
- 2) горно добувна промисловість
- 3) енергетика
- 4) текстильна промисловість
- 5) лісова промисловість
- 6) сільське господарство
- 7) машинобудування
- 8) хімічна промисловість
- 9) виробництво будівельних матеріалів

БЛОК С

25. Чому, на вашу думку, в розвинутих країнах в останні роки зменшилося виробництво і споживання сталі?

- а) –
- б) –
- в) –
- г) –

26. Скласти схему головних джерел забруднення Світового океану.

27. Які показники характеризують відсталість країн що розвиваються.

28. Більше 130 країн здійснюють програму планування сім'ї. Як ви гадаєте, чому?

29. Скласти схему соціально-економічних проблем, які загострюються у зв'язку з демографічним вибухом.

30. Поділити на дві групи приведені у списку приклади екологічних катастроф. Пояснить свою класифікацію.

1. Аварія на Чорнобильській АЕС.
2. Сель
3. Виверження вулкану
4. Цунамі, повені.
5. Землетруси
6. Розлив нафти у океані
7. Випробовування нових видів зброї

31. Назвати причини збільшення навантаження на зовнішнє середовище у другій половині XX в – початок XXI в.

- а) –
- б) –
- в) –
- г) –

32. З наданої схеми виписати у один стовпчик ті форми, міжнародних економічних зв'язків які виникли давно, а у другій - порівняно нові.



33. Чи правильне таке твердження (так, ні), обґрунтувати свій вибір:
В доіндустріальних країнах головним джерелом енергії є атомна енергетика.

34. Чи правильне таке твердження (так, ні), обґрунтувати свій вибір:
Провідною галуззю паливної промисловості є нафтова промисловість.

35. Чи правильне таке твердження (так, ні), обґрунтувати свій вибір: Південна Корея посідає перше місце у світі за виробництвом алюмінію.

36. Чи правильне таке твердження (так, ні), обґрунтувати свій вибір:
Головними світовими виробниками цукрової тростини є Франція і Куба.

Розділ III. РЕГІОНИ ТА КРАЇНИ СВІТУ

Тема 1. Країни Європи

БЛОК А

Завдання 1-12 мають чотири варіанти відповідей. У кожному завданні виберіть ОДНУ ПРАВИЛЬНУ відповідь.

1. До країн Західної Європи відноситься:

- А. Білорусь
- Б. Німеччина
- В. Португалія
- Г. Україна

А	
Б	
В	
Г	

2. Анклав розташований у:

- А. Лондоні
- Б. Парижі
- В. Римі
- Г. Берліні

А	
Б	
В	
Г	

3. Столиця Великобританії знаходиться в

- А. Північній Ірландії
- Б. Англії
- В. Уельсі
- Г. Шотландії

А	
Б	
В	
Г	

4. У якій країні Європи найбільша кількість населення

- А. Великобританія
- Б. Франція
- В. Німеччина
- Г. Італія

А	
Б	
В	
Г	

5. Карликова держава Західної Європи

- А. Монако
- Б. Албанія
- В. Австрія
- Г. Молдова

А	
Б	
В	
Г	

6. До складу ЄС не входить:

- А. Великобританія
- Б. Франція
- В. Білорусь
- Г. Швейцарія

А	
Б	
В	
Г	

7. Яка країна не є конституційної монархією

- А. Ватикан
- Б. Норвегія
- В. Іспанія
- Г. Бельгія

А	
Б	
В	
Г	

8. Яка держава вказана на карті позначкою

- А. Данія
- Б. Швеція
- В. Норвегія
- Г. Фінляндія



А	
Б	
В	
Г	

9. Автомобільна компанія OPEL яка входить до складу General Motors була заснована у:

- А. Італії
- Б. Великобританії
- В. Франції
- Г. Німеччині

А	
Б	
В	
Г	

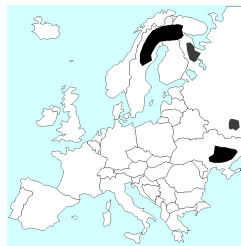
10. II тип відтворення населення у:

- А. Португалії
- Б. Австрії
- В. Албанії
- Г. Великобританії

А	
Б	
В	
Г	

11. Родовища якої корисної копалини позначені на карті:

- А. Залізної руди
- Б. Кам'яного вугілля
- В. Нафти
- Г. Мідної руди



А	
Б	
В	
Г	

12. Країна Європи, яка біла розділена у 1949 році та знову об'єдналась у 1990 році

- А. Росія
- Б. Чехословаччина
- В. Югославія
- Г. Німеччина

А	
Б	
В	
Г	

БЛОК В

13. Встановіть відповідність форми правління та країни:

1. Парламентська республіка
2. Теократична монархія
3. Президентська республіка
4. Конституційна монархія
 - А. Ватикан
 - Б. Великобританія
 - В. Польща
 - Г. Франція

	А	Б	В	Г
1				
2				
3				
4				

14. Встановіть відповідність характеристики населення країни та її назва:

1. Внаслідок історичних подій середини ХХ століття, це одна з найбільш багатонаціональних країн світу. Зміни у проживанні німців, українців та поляк на території країни є слідством холокосту та перерозподілу території після ІІ Світової війни.
2. Населення країни відноситься до 3 основних національностей. Столиця країни – це найбільший порт.
3. Корінне населення відноситься до європеїдної та монголоїдної рас. Державна мова входить до 10 найпоширеніших мов світу.
4. Однонаціональна держава. Внутрішні відмінності у розвитку господарства впливають на зайнятість населення: на півночі більшість людей працює у промисловості, на півдні - у сільському господарстві.
 - А. Італія
 - Б. Великобританія
 - В. Польща
 - Г. Росія

	А	Б	В	Г
1				
2				
3				
4				

15. Встановіть відповідність: основні типи електростанцій та країни

1. АЕС
2. ТЕС
3. Геотермальні ЕС
4. ГЕС
 - А. Ісландія
 - Б. Норвегія
 - В. Німеччина
 - Г. Франція

	А	Б	В	Г
1				
2				
3				
4				

15. Встановіть відповідність: аеропорти та столиці

1. ім. Шарля де Голля, Орлі, Бове
 2. Хітроу, Гатвік, Стенстед
 3. Бориспіль, Жуляни
 4. Шереметьєво, Домодедово, Внуково
- А. Київ
Б. Лондон
В. Москва
Г. Париж

	А	Б	В	Г
1				
2				
3				
4				

17. Встановіть відповідність: продукція галузі МГРП та країна

1. атомна енергія, парфумерія, вино
 2. чорні метали, автомобілі, пиво
 3. годинники, шоколад, гірськолижні курорти
 4. нафтохімічна продукція, квіти, масло та сири
- А. Німеччина
Б. Нідерланди
В. Франція
Г. Швейцарія

	А	Б	В	Г
1				
2				
3				
4				

18. Встановіть відповідність: виробники автомобілів та країна

1. Ситроен
 2. Опель
 3. Ролс-Ройс
 4. Шкода
- А. Великобританія
Б. Німеччина
В. Франція
Г. Чехія

	А	Б	В	Г
1				
2				
3				
4				

19. Встановіть відповідність: характеристика населення та країна

1. Найбільша частка трудових мігрантів
 2. Найбільша кількість трудових мігрантів
 3. Найбільший рівень міських жителів
 4. Найменший рівень міських жителів
- А. Монако
Б. Німеччина
В. Португалія
Г. Швейцарія

	А	Б	В	Г
1				
2				
3				
4				

20. Розташуйте у послідовності зменшення населення у країнах Європи

- А. Великобританія
- Б. Італія
- В. Німеччина
- Г. Франція

1	2	3	4

21. Розташуйте події з початку до кінця ХХ століття

- А. Розпад СРСР
- Б. Створення ЄС
- В. Об'єднання Німеччини
- Г. Створення НАТО

1	2	3	4

22. Розташуйте країни відносно їх географічного положення з півночі на південь

- А. Швейцарія
- Б. Данія
- В. Чехія
- Г. Кіпр

1	2	3	4

23. Встановіть відповідність: держава та столиця

- 1. Македонія
- 2. Австрія
- 3. Ірландія
- 4. Албанія
 - А. Тирана
 - Б. Відень
 - В. Скоп'є
 - Г. Дублін

	А	Б	В	Г
1				
2				
3				
4				

24. Встановіть відповідність: країна та голова керівництва

- 1. Росія
- 2. Білорусь
- 3. Франція
- 4. Німеччина
 - А. Олександр Лукашенко
 - Б. Ангела Меркель
 - В. Франсуа Олланд
 - Г. Володимир Путін

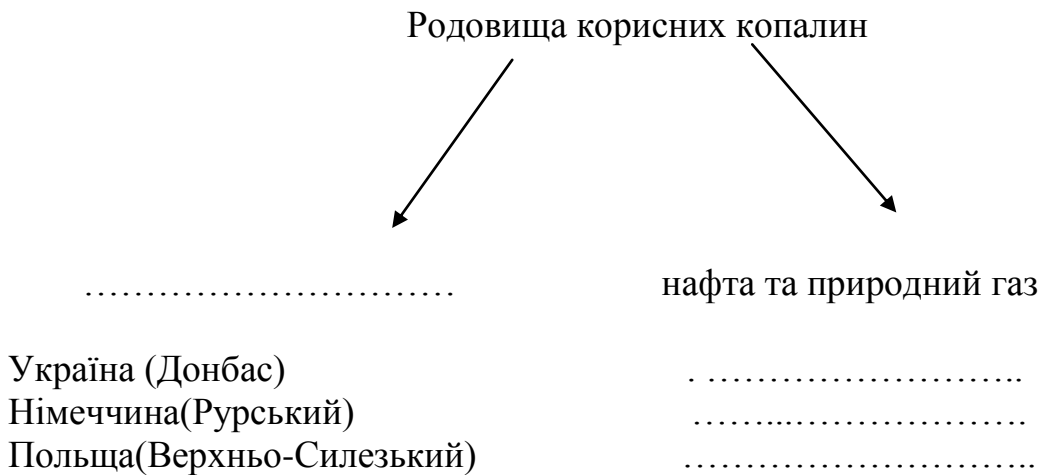
	А	Б	В	Г
1				
2				
3				
4				

БЛОК С

25. Заповніть пропуски у схемі:



26. Заповніть пропуски у схемі:



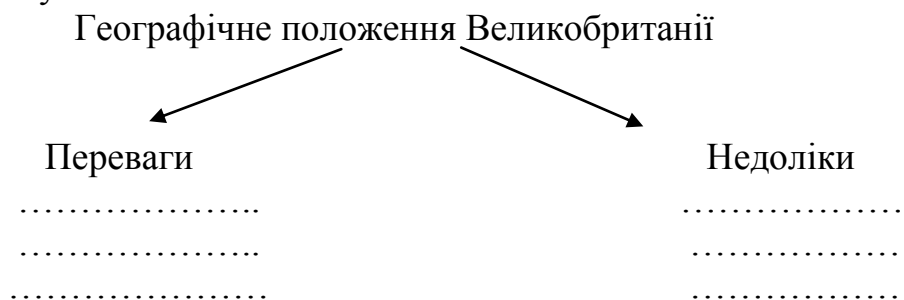
27. Заповніть пропуски:

В останні роки у сільському господарстві Європи відбулась друга «..... революція», яка крім механізації та, передбачає використання електроніки та

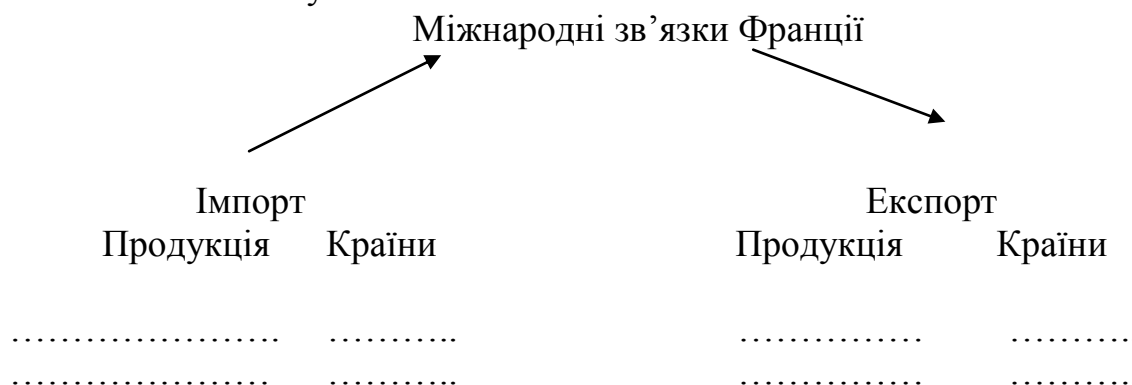
28. Складіть схему:



29. Складіть схему:



30. Заповніть схему



31. Про яку країну розповідається у тексті:

Ця країна – батьківщина нотної грамоти та опери. Сьогодні це країна контрастів – індустріально розвинутий Північ, та економічно відсталий Південь. На території країни є два анклави. 80% території займають молоді сейсмічно активні гори. Промисловість працює переважно на імпортній сировині. Основний вид транспорту морський.

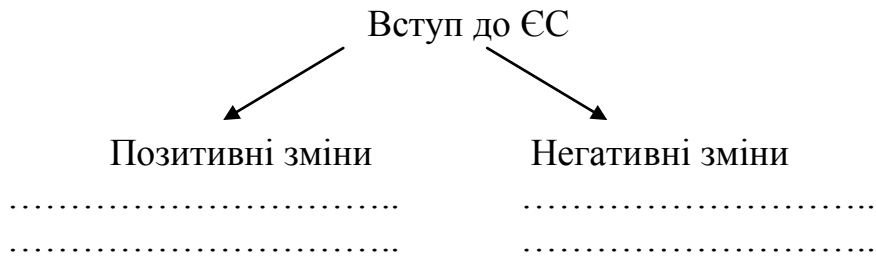
32. Порівняйте країни

Риси порівняння	Країни	
	Великобританія	Італія
Географічне положення		
Клімат а) температурні особливості б) вологість		
Спеціалізація сільського господарства		
Експорт сільськогосподарської продукції		
Імпорт сільськогосподарської продукції		

33. Порівняйте країни

Риси порівняння	Країни	
	Франція	Білорусь
Природні ресурси		
Трудові ресурси		
Галузі спеціалізації		

34. Визначте позитивні та негативні наслідки приєднання сусідів України до ЄС



35. Заповніть пропуски

«..... країни Західної Європи входять до складу «Великої.....» Населення цих країн має..... тип відтворення, тому що.....

.....

Рівень урбанізації..... Найбільші міста 1....., 2....., 3..... Більшість населення працює у.....

..... Провідні галузі промисловості.....

.....

Найбільш відвідуванні туристами визначні місця.....»

36. Обґрунтуйте необхідність створення ЄС.

Розділ III. РЕГІОНИ ТА КРАЇНИ СВІТУ

Тема 1. Країни Азії

БЛОК А

Завдання 1-12 мають чотири варіанти відповідей. У кожному завданні виберіть **ОДНУ ПРАВИЛЬНУ** відповідь.

1. Азія – батьківщина:

- А) Ісламу
- Б) Буддизму
- В) Індуїзму
- Г) Усіх світових релігій

А	
Б	
В	
Г	

2. «Економічне диво» в даний час спостерігається у:

- А) Японії
- Б) Республіці Корея і Сінгапурі
- В) Індії і Китаї
- Г) Монголії

А	
Б	
В	
Г	

3. «Рисові» ландшафти країн Азії розміщені головним чином:

- А) В долинах і дельтах річок
- Б) Повсюди
- В) На гірських схилах
- Г) В приморських районах

А	
Б	
В	
Г	

4. Населення якої країни відрізняється найнижчим показником дитячої смертності в світі:

- А) Індії
- Б) Китаю
- В) Великобританії
- Г) Японії

А	
Б	
В	
Г	

5. Головне багатство країн Південно-Західної Азії:

- А) Вугілля
- Б) Дешева робоча сила
- В) Нафта
- Г) Мідь

А	
Б	
В	
Г	

6. Більшість країн Східної Азії належать до країн з:

- А) Першим типом відтворення населення
- Б) Другим типом відтворення населення
- В) Низькою народжуваністю
- Г) Середньою народжуваністю

А	
Б	
В	
Г	

7. Вкажіть, які електростанції виробляють найбільшу долю електроенергії в Японії:

- А) Теплові
- Б) Гідравлічні
- В) Атомні
- Г) Геотермальні

А	
Б	
В	
Г	

8. «Чайні» ландшафти типові для:

- А) Японії, Індії, Китаю
- Б) Монголії, Республіки Корея, Сінгапуру
- В) Шрі-Ланки, Індонезії, Малайзії
- Г) Сінгапур, Пакистан, Лаос

А	
Б	
В	
Г	

9. Світовий лідер по кількості великих міст:

- А) Індія
- Б) Китай
- В) Японія
- Г) Індонезія

А	
Б	
В	
Г	

10. Географічний малюнок господарства Індії визначається:

- А) Столичним регіоном
- Б) Річковими системами
- В) Промисловими центрами півночі, півдня, сходу і заходу
- Г) Приморським положенням країни

А	
Б	
В	
Г	

11 Цю країну називають «Європою на екваторі»:

- А) Тайвань
- Б) Республіка Корея
- В) Гонконг
- Г) Сінгапур

А	
Б	
В	
Г	

12. Вкажіть назву країни, де розташована компанія «Тата» - найбільша корпорація цієї країни:

- А) Кувейт
- Б) Індія
- В) Китай
- Г) Корея

А	
Б	
В	
Г	

БЛОК В

13. Знайдіть відповідність між регіонами та країнами:

- 1) Південно-Західна Азія
- 2) Південна Азія
- 3) Південно-Східна Азія
- 4) Центральна Азія

- А) Сінгапур
- Б) Індія
- В) Монголія
- Г) Саудівська Аравія

	А	Б	В	Г
1				
2				
3				
4				

14. Знайдіть відповідність між кліматичними областями та сільськогосподарськими культурами:

- | | |
|----------------------|--------------|
| 1) Мусонні області | А) Кава |
| 2) Континентальні | Б) Цитрусові |
| 3) Середземноморські | В) Чай |
| 4) Екваторіальні | Г) Гевея |

	А	Б	В	Г
1				
2				
3				
4				

15. Знайдіть відповідність між типами електростанцій та % електроенергії в Японії:

- | | |
|----------------------------|--------|
| 1) ТЕС | А) 12% |
| 2) АЕС | Б) 2% |
| 3) ГЕС | В) 28% |
| 4) Геотермальні та сонячні | Г) 58% |

	А	Б	В	Г
1				
2				
3				
4				

16. Знайдіть відповідність між провідною продукцією експорту країн і їх назвами:

- | | |
|-------------|---------------|
| 1) Нафта | А) Узбекистан |
| 2) Чай | Б) Шрі-Ланка |
| 3) Мідь | В) Іран |
| 4) Бавовник | Г) Казахстан |

	А	Б	В	Г
1				
2				
3				
4				

17. Знайдіть відповідність між провідною продукцією експорту країн і їх назвами:

- | | |
|---------------------|-------------------|
| 1) нафта | А) Пакистан |
| 2) Побутова техніка | Б) Південна Корея |
| 3) Текстиль | В) Монголія |
| 4) Нафтопродукти | Г) ОАЕ |

	А	Б	В	Г
1				
2				
3				
4				

18. Знайдіть відповідність між великими родовищами нафти та країнами їх розташування:

- | | |
|-----------------------|----------------------|
| 1) Гавар | А) Саудівська Аравія |
| 2) Західносибірський | Б) Індонезія |
| 3) Суматринський | В) Туркменістан |
| 4) Середньоазіатський | Г) Росія |

	А	Б	В	Г
1				
2				
3				
4				

19. Знайдіть відповідність між країнами та найбільш відомими покладами нерудних ресурсів:

- | | |
|-----------------|--------------|
| 1) калійні солі | А) Шрі-Ланка |
| 2) алмази | Б) Ізраїль |
| 3) слюда | В) Індонезія |
| 4) графіт | Г) Індія |

	А	Б	В	Г
1				
2				
3				
4				

20. Місто, змальоване на ілюстрації, є місцем паломництва для віруючих жителів:

- 1) Японії
- 2) Китаю
- 3) Індонезії
- 4) Саудівської Аравії



1	
2	
3	
4	

21. Визначте послідовність збільшення об'ємів збору рису по країнах:

- А) Індія
- Б) Камбоджа
- В) Китай
- Г) Таїланд

	А	Б	В	Г
1				
2				
3				
4				

22. Знайдіть відповідність між країнами і регіонами та тваринами, які тут переважають, хоча тваринництво і має допоміжне значення:

- 1) Китай А) Яки
 2) Туреччина Б) Велика рогата худоба
 3) Індія В) Свині
 4) Тибет Г) Ангорські кози

	А	Б	В	Г
1				
2				
3				
4				

23. Знайдіть відповідність між країнами та їх рівнем економічного розвитку:

- 1) Нафтодобувні А) Філіппіни
 2) Середніх можливостей Б) Малайзія
 3) Найменш розвинуті В) Бруней
 4) НІК Г) Афганістан

	А	Б	В	Г
1				
2				
3				
4				

24. Визначте відповідність:

- ВВП на душу населення (в долл.) у :
- 1) Республіці Корея А) 24000
 2) Сингапурі Б) 15570
 3) Тайвані В) 38000
 4) Гонконгу Г) 10000

	А	Б	В	Г
1				
2				
3				
4				

БЛОК С

25. Виберіть вірні твердження:

А) Китай – лідер по видобутку залізної руди в зарубіжній Азії, Індія – по її експорту ;

Б) у більшості країн Південної і Південно-східної Азії обсяги виробництва полімерних матеріалів перевищують обсяги виробництва мінеральних добрив

В) основний вигляд тканин, які виробляють в Китаї, - шовкові, в Індії – джутові

Г) найбільш високий природний приріст в зарубіжній Азії спостерігається в субрегіони Східної і Центральної Азії

26. Визначте країни на малюнках підпишіть їх назви та визначте особливості географічного положення:

1



2



3



4



27. Знайдіть помилку в тексті:

1. Поверхневі води розміщені вкрай нерівномірно: більша частина знаходиться в Центральній та Південній Азії; недостатньо прісної води в Південно-Східній Азії. Теж стосується й лісових ресурсів.

2. Розвиток економіки країн Азії дуже залежить від рівня розвитку транспорту. У більшості країн транспортна система розвинута добре. Так, в Афганістані, Кіпрі, Лаосі, Омані, ОАЕ багато залізних доріг, автодороги головним чином ґрунтові. Розвинуті річковий та морський транспорт, а в нафтодобувних трубопровідний. Складні автомобільні розв'язки, якісні автодороги, монорельсові залізничні состави, здатні розвивати швидкість до 459км/год існують в Китаї.

28.Що зображено на малюнках? Яке значення для жителів цих країн мають ці об'єкти?



1)



2)



3)

29. Знайдіть відповідь на питання:

Більш чим на 1000 км розтягнулася гірлянда цих островів. У ній 36 ланки-островів і безліч дрібних скель, острівців і рифів, розсипаних довкола крупних островів, немов бісер. Кожен острів-вулкан, уламок вулкана або ланцюжок вулканів, що злилися своїми підшвами. Похмурі і величні конуси, у підніжжі яких гримить океанський прибій. Трикілометрові глибини підходять до островів з боку окраїнного моря. З боку океану, відразу ж за великим підводним хребтом, розташована одна з найглибших океанських западин. Які це острови? Як називаються глибоководна западина, окраїнне море і океан?

30. Знайдіть відповідь на питання:

Це місто розташоване в двох частинах світу. Впродовж багатьох століть воно було столицею трьох імперій - Римської, Візантійської і Османом. Бурхливі події історії наклали свій відбиток на подобу міста. Його прикрашають, особливо в старій частині, близько 500 мечетей з високими мінаретами, храми, палаци, фонтани і інші архітектурні спорудження візантійських часів, турецького середньовіччя і нового часу. У VI ст. до н.е. персидський цар Дарій першим навів переправу через протоку, що розділяє місто, по якій пройшло його 70-тисячне військо. Пройшло 2500 років, перш ніж дві частини світу знов були з'єднані мостом, цього разу не наплавним, а підвісним. Цей міст, четвертий за величиною в світі, дозволяє пропускати під ним океанські судна будь-яких розмірів. Що це за місто, в яких частинах світу воно розташоване і яка протока його розділяє?

31. Доведіть, що Азію не даремно називають регіоном контрастів.

32. Складіть схему товарної структури експорту та імпорту Японії.

33. Чим пояснюється сільськогосподарська спеціалізація економіки більшості країн Південної і Південно-Східної Азії?

34. За допомогою карт атласу дайте оцінку природно-ресурсному потенціалу Японії.

35. З чим пов'язаний розвиток трубопровідного транспорту в країнах Південно-Західної Азії?

36. Чому усі нафтопереробні заводи та ТЕС Японії розташовані на морських узбережжях, а ГЕС - у внутрішніх районах о. Хонсю?

Розділ III. РЕГІОНИ ТА КРАЇНИ СВІТУ

- Тема 3. Країни Північної Америки
Тема 4. Країни Латинської Америки
Тема 5. Країни Африки, Австралії та Океанії

БЛОК А

Завдання 1-12 мають чотири варіанти відповідей. У кожному завданні виберіть **ОДНУ ПРАВИЛЬНУ** відповідь

1. Виберіть вірне твердження щодо США:

- А займає третє місце в світі за розмірами території
Б посідає перше місце у світі за посівами генетично модифікованих культур

В займає друге місце в світі за кількістю населення

Г займає перше в світі місце з поголів'я великої рогатої худоби

А	
Б	
В	
Г	

2. У якому районі США знаходиться «автомобільна столиця світу» та «Американський Рур», один з найбільших аеропортів світу «О'Хара» та найбільші в країні ринки пшениці, кукурудзи, сої, худоби?

А Атлантичному узбережжі

Б Гірських Штатах

В Каліфорнії

Г Приозер'ї

А	
Б	
В	
Г	

3. У якому регіоні США знаходиться мегалополіс Сансан?

А Каліфорнія

Б Приозер'я

В Гірські Штати

Г Тихоокеанський Північний Захід

А	
Б	
В	
Г	

4. Виберіть провідну міжнародну галузь сільськогосподарської спеціалізації Канади:

А свинарство

Б зернове господарство

В м'ясо - вовняне вівчарство

Г картоплярство

А	
Б	
В	
Г	

5. Унікальним багатством Чилі є:

А селітра

Б вугілля

В нафта

Г олово

А	
Б	
В	
Г	

6. Яка мова є панівною у більшості країн Латинської Америки?

А португальська

Б англійська

В іспанська

Г латинська

А	
Б	
В	
Г	

7. Укажіть правильне твердження щодо лідерства країни в Латинській Америці.

А Чилі виробляє найбільше автомобілів.

Б Аргентина імпортує найбільше зерна.

В Бразилія має найбільші запаси мідної руди.

Г Еквадор експортує найбільше бананів.

А	
Б	
В	
Г	

8. Укажіть курорти африканських держав.

А Баден-Баден, Карлові Вари, Балеарські острови

Б Анталія, Дубаї, Мальдівські острови

В Санта Барбара, Лас-Вегас, Гавайські острови

Г Хургада, Шарм-ель Шейх, Сейшельські острови

А	
Б	
В	
Г	

9. Укажіть головний чинник того, що переважна більшість країн Африки належить до країн, що розвиваються:

А недостатньо мінеральної сировини та енергії промислових масштабів, низький показник ресурсозабезпеченості

Б несприятливі природні умови

для розвитку сільського господарства та промисловості

В низький рівень розвитку продуктивних сил

та характер матеріальних відносин у виробничій сфері.

Г віддаленість від економічно розвинутих країн світу

А	
Б	
В	
Г	

10. Виберіть найбільш розвинену країну Африки :

А Єгипет

Б Південно-Африканська Республіка (ПАР)

В Нігерія

Г Ефіопія

А	
Б	
В	
Г	

11 Яка галузь тваринництва є основною в галузевій структурі сільського господарства Австралії:

А птахівництво

Б свинарство

В скотарство

Г вівчарство

А	
Б	
В	
Г	

12. Вкажіть назву країни, де проживає найбільша українська діаспора:

- А Австралія
- Б США
- В Канада
- Г Аргентина

А	
Б	
В	
Г	

БЛОК В

13. Знайдіть відповідність між галузями промисловості США та їх центрами:

- | | |
|-----------------------|-----------------|
| 1 нафтопереробна | А Сіетл |
| 2 літакобудування | Б Балтімор |
| 3 автомобілебудування | В Корпус-Крісті |
| 4 чорна металургія | Г Детройт |

	А	Б	В	Г
1				
2				
3				
4				

14. Встановіть відповідність між експортним продукцією та країною

- | | |
|-----------|-------------|
| 1 пшениця | А Чилі |
| 2 кава | Б Болівія |
| 3 олово | В Бразилія |
| 4 мідь | Г Аргентина |

	А	Б	В	Г
1				
2				
3				
4				

15. Установіть відповідність між країнами Латинської Америки та їхніми характеристиками.

- 1 Бразилія
- 2 Венесуела
- 3 Куба
- 4 Перу

	А	Б	В	Г
1				
2				
3				
4				

- А «Острів свободи», один із лідерів вирощування та експорту цукрової тростини
- Б серед пам'яток всесвітньої культурної спадщини – столиця інків Куско, Мачу Пікчу
- В має найбільші запаси, але не є лідером з експорту нафти в регіоні
- Г «тропічний гігант», ВВП більший, ніж у Канаді, експортує автомобілі

16. Знайдіть відповідність між типами електростанцій та % електроенергії в Канаді :

- 1 ТЕС А менш 1%
 2 АЕС Б 61%
 3 ГЕС В 22%
 4 припливні Г 17%

	А	Б	В	Г
1				
2				
3				
4				

17. Знайдіть відповідність назвою країни та її підтипом за рівнем економічного розвитку:

- 1 Куба А переселенські країни
 2 Нова Зеландія Б нові індустріальні країни
 3 Сомалі В країни з плановою економікою
 4 Бразилія Г найменш розвинені країни світу

	А	Б	В	Г
1				
2				
3				
4				

18. Знайдіть відповідність між розташуванням покладів корисних копалин та територіями США:

- 1 залізна руда А Аляска
 2 фосфорити Б Приозерний басейн
 3 золото В Примексиканська низовина
 4 саморідна сірка Г Флорида

	А	Б	В	Г
1				
2				
3				
4				

19 . Знайдіть відповідність між представниками різних рас, та назвами утворених мішаних рас Латинської Америки.

- 1 негроїдна + європеїдна раси А креоли
 2 негроїдна + монголоїдна раси Б мулати
 3 монголоїдна + європеїдна раси В метиси
 4 нащадки європейських колонізаторів Г самбо

	А	Б	В	Г
1				
2				
3				
4				

20. Знайдіть відповідність між розташуванням покладів корисних копалин та країнами Африки:

- 1 хромова руда А Демократична Республіка Конго (ДРК)
 2 алмази Б Гвінея
 3 алюмінієві руди В Марокко
 4 фосфорити Г Південно Африканська Республіка (ПАР)

	А	Б	В	Г
1				
2				
3				
4				

21. Знайдіть відповідність між країнами та великими морськими портами Африки :

- | | |
|--------------|---------------|
| 1 Єгипет | А ПАР |
| 2 Лагос | Б Олександрія |
| 3 Касабланка | В Нігерія |
| 4 Кейптаун | Г Марокко |

	А	Б	В	Г
1				
2				
3				
4				

22. Знайдіть відповідність між експортними культурами та регіонами Африки, що їх вирощують:

- | | |
|---------------------------------------|--------------|
| 1 пальмова олія, кава, бавовна | А Північна |
| 2 какао, арахіс, кава, банани, каучук | Б Східна |
| 3 ваніль, чай, кава, сизаль | В Центральна |
| 4 оливки, цитрусові, віно | Г Західна |

	А	Б	В	Г
1				
2				
3				
4				

23. Розташуйте послідовно країни Африки (з півночі на південь):

- А Південно-Африканська Республіка
 Б Єгипет
 В Судан
 Г Демократична Республіка Конго

	А	Б	В	Г
1				
2				
3				
4				

24. Розташуйте послідовно в порядку збільшення кількості населення міста Австралії :

- А Канберра
 Б Сідней
 В Перт
 Г Мельбурн

	А	Б	В	Г
1				
2				
3				
4				

БЛОК С

25. Порівняйте ЕГП США та Канади. Укажіть риси подібності та відмінності.

26. Використовуючи дані таблиці, визначте і порівняйте ресурсозабезпеченість країн прісною водою.

	Країна	Ресурси прісної води, км ³	Кількість населення, млн. осіб	Ресурсозабезпеченість
А	США	2480	308	
Б	Канада	2900	34	

27. Використовуючи дані таблиці, визначте і порівняйте ресурсозабезпеченість країн природним газом.

	Країна	Видобуток	Кількість населення, млн. осіб	Споживання	Ресурсозабезпеченість
А	США	525,7	308	816,2	
Б	Аргентина	45,8	40	32,9	

28. Через Амазонську низовину побудовано трансамазонську магістраль. Поряд з вирішенням транспортних проблем будівництво негативно впливає на навколишнє середовище. Назвіть ці негативні наслідки, та запропонуйте програму покращення ситуації.

29. Бразилія є одним з найбільших виробників кави в світі. Укажіть головні причини, що пояснюють це явище.

30. Найбільший мегаполіс утворився на Південному Сході США, а не на узбережжі Мексиканської затоки Атлантичного океану. Укажіть дві причини, що пояснюють це явище. Обґрунтуйте їх.

31. Дайте оцінку економічній ролі США в розвитку країн Південної Америки. Укажіть позитивні та негативні риси. Спрогнозуйте розвиток відносин.

32. Порівняйте спеціалізацію сільського господарства Бразилії та Аргентини. Заповніть таблицю:

	Риси порівняння	Бразилія	Аргентина
Рослинництво	Природні передумови		
	Зернові культури		
	Технічні культури		
Тваринництво	Природні передумови		
	Історичні передумови		
	Головні галузі та напрямки розвитку		

33. За допомогою карт атласу дайте оцінку природно-ресурсному потенціалу Південно-Африканської республіки.

34. У чому проявляється колоніальний характер галузевої та територіальної структури більшості африканських країн?

35. Поясніть особливості розселення територією Австралії. Назвіть головні причини такої ситуації, обґрунтуйте їх.

36. Назвіть провідні галузі австралійського господарства як переселенської країни. Визначте провідні галузі міжнародної спеціалізації країни.

Відповіді

Розділ І. ЗАГАЛЬНА ЕКОНОМІКО – ГЕОГРАФІЧНА ХАРАКТЕРИСТИКА СВІТУ

Вступ

Тема 1. Політична карта світу

Тема 2. Населення світу

Блок А.

1.

А	
Б	
В	Х
Г	

2.

А	Х
Б	
В	
Г	

3.

А	
Б	Х
В	
Г	

4.

А	Х
Б	
В	
Г	

5.

А	
Б	
В	
Г	Х

6.

А	
Б	
В	Х
Г	

7.

А	
Б	
В	Х
Г	

8.

А	Х
Б	
В	
Г	

9.

А	
Б	
В	
Г	Х

10.

А	Х
Б	
В	
Г	

11.

А	Х
Б	
В	
Г	

12.

А	
Б	
В	Х
Г	

Блок В

13. А-2, Б-1, В-4, Г-3

14. А-2, Б-5, В-3, Г-4

15. А-2, Б-1, В-5, Г-3

16. А-3, Б-5, В-2, Г-1

17. А-3, Б-2, В-4, Г-1

18. А-2, Б-3, В-4, Г-1

19. А-3, Б-1, В-4, Г-5

20. А-3, Б-5, В-2, Г-1

21. А-3, Б-4, В-2, Г-1

22. В, Б, А, Г

23. Г, В, Б, А

24. Б, Г, В, А

Розділ І. ЗАГАЛЬНА ЕКОНОМІКО – ГЕОГРАФІЧНА ХАРАКТЕРИСТИКА СВІТУ

Тема 3. Взаємодія суспільства і природи. Світові природні ресурси

Тема 4. Світове господарство

Тема 5. Глобальні проблеми людства

Блок А.

1.

А	Х
Б	
В	
Г	
2.

А	
Б	
В	Х
Г	
3.

А	Х
Б	
В	
Г	
4.

А	
Б	Х
В	
Г	
5.

А	
Б	Х
В	
Г	
6.

А	
Б	Х
В	
Г	
7.

А	
Б	
В	Х
Г	
8.

А	
Б	Х
В	
Г	
9.

А	
Б	
В	
Г	Х
10.

А	
Б	Х
В	
Г	
11.

А	Х
Б	
В	
Г	
12.

А	
Б	Х
В	
Г	

Блок В

13.

- а) Наука
- б) Техніка і технологія
- в) Виробництво
- г) Керування

14.

- а) Вугільний етап
- б) Нафтогазовий
- в) Перехідний – енергетика яка базується на використанні вичерпаних поновлювальних та невичерпаних ресурсів.

15.

- а) Північна Америка
- б) Західна, Центральна і Східна Європа
- в) Східна і Південна-Східна Азія

16.

	1	2	3	4	5
А		х		х	
Б		х	х		х

17.

1	2	3	4
Б	Г	А	В

18.

1	2	3	4
А	В	Г	Б

19.

1	2	3	4
Б	В	Г	А

20.

1	2	3	4

21.

Велика рогата худоба – Індія, Китай, США
 Свинарство – Китай
 Вівчарство – Австралія, Китай

22.

	А	Б	В
1		х	
2			х
3	х		

23.

1	2	3	4	5	6
	х		х		х

24.

1	2	3	4	5	6	7	8	9
		х				х	х	

Розділ II. РЕГІОНИ ТА КРАЇНИ СВІТУ

Тема 1. Країни Європи

Блок А.

1.

А	
Б	Х
В	
Г	

2.

А	
Б	
В	Х
Г	

3.

А	
Б	Х
В	
Г	

4.

А	
Б	
В	Х
Г	

5.

А	Х
Б	
В	
Г	

6.

А	
Б	
В	Х
Г	

7.

А	Х
Б	
В	
Г	

8.

А	
Б	Х
В	
Г	

9.

А	
Б	
В	
Г	Х

10.

А	
Б	
В	Х
Г	

11.

А	Х
Б	
В	
Г	

12.

А	
Б	
В	
Г	Х

Блок В.

13.

	А	Б	В	Г
1			Х	
2	Х			
3				Х
4		Х		

14.

	А	Б	В	Г
1			Х	
2		Х		
3				Х
4	Х			

15.

	А	Б	В	Г
1				Х
2			Х	
3	Х			
4		Х		

16.

	А	Б	В	Г
1				Х
2		Х		
3	Х			
4			Х	

17.

	А	Б	В	Г
1			Х	
2	Х			
3				Х
4		Х		

18.

	А	Б	В	Г
1			Х	
2		Х		
3	Х			
4				Х

19.

	А	Б	В	Г
1				Х
2		Х		
3	Х			
4			Х	

20.

1	2	3	4
В	Г	А	Б

21

1	2	3	4
Г	В	А	Б

22

1	2	3	4
Б	В	А	Г

23

	А	Б	В	Г
1			Х	
2		Х		
3				Х
4	Х			

24.

	А	Б	В	Г
1				Х
2	Х			
3			Х	
4		Х		

Розділ II. РЕГІОНИ ТА КРАЇНИ СВІТУ

Тема 1. Країни Азії

Блок А.

1.

А	
Б	
В	
Г	Х

 2.

А	
Б	Х
В	
Г	

 3.

А	Х
Б	
В	
Г	

 4.

А	
Б	
В	
Г	Х

 5.

А	
Б	
В	Х
Г	

 6.

А	
Б	Х
В	
Г	
7.

А	Х
Б	
В	
Г	

 8.

А	Х
Б	
В	
Г	

 9.

А	
Б	Х
В	
Г	

 10.

А	
Б	
В	Х
Г	

 11.

А	
Б	
В	Х
Г	

 12.

А	
Б	Х
В	
Г	

Блок В

13.

	А	Б	В	Г
1				Х
2		Х		
3	Х			
4			Х	

 14.

	А	Б	В	Г
1			Х	
2	Х			
3		Х		
4				Х

 15.

	А	Б	В	Г
1				Х
2			Х	
3	Х			
4		Х		

 16.

	А	Б	В	Г
1			Х	
2		Х		
3				Х
4	Х			
17.

	А	Б	В	Г
1				Х
2		Х		
3			Х	
4	Х			

 18.

	А	Б	В	Г
1	Х			
2				Х
3		Х		
4			Х	

 19.

	А	Б	В	Г
1		Х		
2			Х	
3				Х
4	Х			

 20.

1				
2	х			
3				
4				
21.

	А	Б	В	Г
1		х		
2				х
3	х			
4			х	

 22.

	А	Б	В	Г
1			Х	
2				Х
3		Х		
4	Х			

 23.

	А	Б	В	Г
1			Х	
2	Х			
3				Х
4		Х		

 24.

	А	Б	В	Г
1				х
2			х	
3		х		
4	х			

Розділ II. РЕГІОНИ ТА КРАЇНИ СВІТУ

Тема 3. Країни Північної Америки

Тема 4. Країни Латинської Америки

Тема 5. Країни Африки, Австралії та Океанії

Блок А

1.

А	
Б	Х
В	
Г	

2.

А	
Б	
В	
Г	Х

3.

А	Х
Б	
В	
Г	

4.

А	
Б	Х
В	
Г	

5.

А	Х
Б	
В	
Г	

6.

А	
Б	
В	Х
Г	

7.

А	
Б	
В	
Г	Х

8.

А	
Б	
В	
Г	Х

9.

А	
Б	
В	Х
Г	

10.

А	
Б	
В	Х
Г	

11.

А	
Б	
В	
Г	Х

12.

А	
Б	
В	Х
Г	

Блок В

13.

	А	Б	В	Г
1			Х	
2	Х			
3				Х
4		Х		

14.

	А	Б	В	Г
1				Х
2			Х	
3		Х		
4	Х			

15.

	А	Б	В	Г
1				Х
2			Х	
3	Х			
4		Х		

16.

	А	Б	В	Г
1			Х	
2				Х
3		Х		
4	Х			

17.

	А	Б	В	Г
1			Х	
2	Х			
3				Х
4		Х		

18.

	А	Б	В	Г
1		Х		
2				Х
3	Х			
4			Х	

19.

	А	Б	В	Г
1		Х		
2				Х
3			Х	
4	Х			

20.

	А	Б	В	Г
1				Х
2	Х			
3		Х		
4			В	

21.

	А	Б	В	Г
1		Х		
2			Х	
3				Х
4	Х			

22.

	А	Б	В	Г
1			Х	
2				Х
3		Х		
4	Х			

23.

	А	Б	В	Г
1		Х		
2			Х	
3				Х
4	Х			

24.

	А	Б	В	Г
1	Х			
2			Х	
3				Х
4		Х		

